



Colegio Tecnológico Pulmahue  
Profesor Angela Silva Riquelme

Contacto: [profeangela.edb@gmail.com](mailto:profeangela.edb@gmail.com)

Horario: 10:00 a 12:00 – 15:00 a 18:00 pm

### Matemática semana del 19 al 23 de octubre primero básico

Objetivo: Leer números del 0 al 20 y representarlos en forma concreta, pictórica y simbólica.

Actividad 1:

Realiza las siguientes fichas interactivas y envíamelas a mi correo.

<https://ks.liveworksheets.com/sb289004zn>

<https://ks.liveworksheets.com/fv280874ip>

<https://ks.liveworksheets.com/se192621jq>

<https://ks.liveworksheets.com/zu1188746xy>

Actividad 2: Escribe el número representado en cada caso

a.

b.

c.



Colegio Tecnológico Pulmahue  
Profesor Angela Silva Riquelme

Contacto: [profeangela.edb@gmail.com](mailto:profeangela.edb@gmail.com)

Horario: 10:00 a 12:00 – 15:00 a 18:00 pm

Actividad 3: Recorta y pega el siguiente cuadro reconociendo la cantidad correcta.

6				
	12			
				20

		3		
15			9	18







Colegio Tecnológico Pulmahue  
Profesor Angela Silva Riquelme



Contacto: [profeangela.edb@gmail.com](mailto:profeangela.edb@gmail.com)

Horario: 10:00 a 12:00 – 15:00 a 18:00 pm

Actividad 4: Encierra la cantidad de elementos que corresponda.

a.  

b.  

c.  

Actividad 5: Cuenta los huevos y escribe la cantidad correcta.

a. 

c. 

b. 

d. 